

VACANȚA MARE

1. Aranjează în ordine alfabetică cuvintele care se potrivesc cu vacanța mare.

bucurii, libertate, plăcere, jocuri, soare, plajă, apă, brazi, căldură, distracție

2. Încercuiește în careu cuvintele de mai jos.

MARE
MUNTE
SOARE
BUNICI
JOCURI
IULIE
AUGUST
CÂNTEC

A	W	X	B	G	H	L
U	B	I	U	L	I	E
G	C	Â	N	T	E	C
U	P	R	I	M	S	S
S	J	O	C	U	R	I
T	U	T	I	N	V	X
M	A	R	E	T	Y	Z
S	O	A	R	E	B	C




3. Dezleagă ghicitoarea și apoi încercuiește varianta corectă.

**Soarele dogorește,
Teiul înflorește,
Grâul este aurit,
Cine a sosit?**
()

- ★ Câte cuvinte alcătuite din 5 sunete sunt în ghicitoarea dată?
a) 4; b) 3; c) 5; d) 6.
- ★ Cuvântul care are 4 silabe este:
a) soarele; b) aurit; c) grâul; d) dogorește.
- ★ Cuvântul care are 4 litere și 3 sunete este:
a) aurit; b) soarele; c) cine; d) teiul.

4. Vacanța înseamnă călătorii. Ce obișnuiești să iei cu tine în bagaj? Scrie denumirile a două obiecte pe care le iei cu tine într-o călătorie.



5. În fiecare cuvânt s-a ascuns câte un nume de băiețel sau de fetiță. Scrie-l.

bradul **poiana**


banca **avion** **Ion**

furnică

6. Printre lucrurile pe care le folosești în timpul liber s-au ascuns și cuvintele unei propoziții. Descoperă propoziția și numerează ordinea cuvintelor.



14. Câte numere scrise pe bolovan au cifra zecilor egală cu cifra unităților?



- a) 2; b) 4; c) 3; d) 5.


15. Castelul se află la numărul 34. Aurel și Răzvan sunt vecinii castelului de pe aceeași parte a străzii. Ce numere au casele vecinilor castelului?




- a) 33, 35; b) 32, 36; c) 32, 35; d) 33, 36.

16. Calculează și vei afla câte spice de orez se află în legătura țaranului.

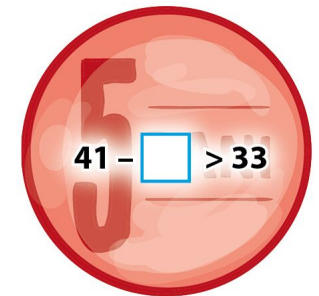
$$91 - 37 + 28 - 9 + 27 =$$



17. Colorează floarea pe ale cărei frunze sunt scrise lunile anotimpului **vara**.



18. Rezolvă sarcinile scrise pe fiecare monedă.



19. Un bărbat avea la vestă trei nasturi mari și patru nasturi mici. Câți nasturi avea la mâneci?



- a) 3; b) 0; c) 6; d) 4.

20. Regele a privit curcubeul pe cer. Ce culoare nu a văzut?

- a) negru; b) violet; c) verde; d) portocaliu.

21. Între cele două castele sunt 5 diferențe. Le poți descoperi?




7. Colorează coroanele pe care sunt scrise corect cuvintele.



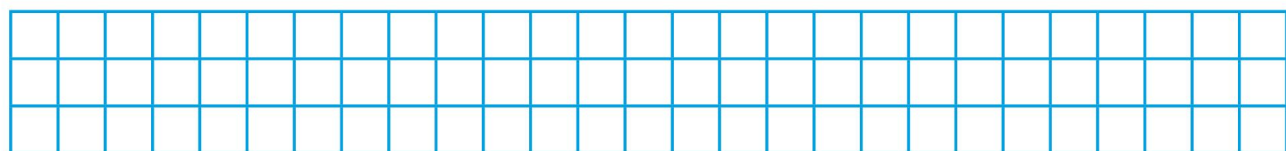
8. Descoperă cuvintele ascunse, și încercuiește-le.

străvechi urmări supuși nimic aparține

9. Ajută-l pe țăranul sărman să găsească poarta palatului. Pe poartă se află un număr mai mare decât 10, dar mai mic decât 40, cu suma cifrelor 6 și care au la unități o cifră pară.

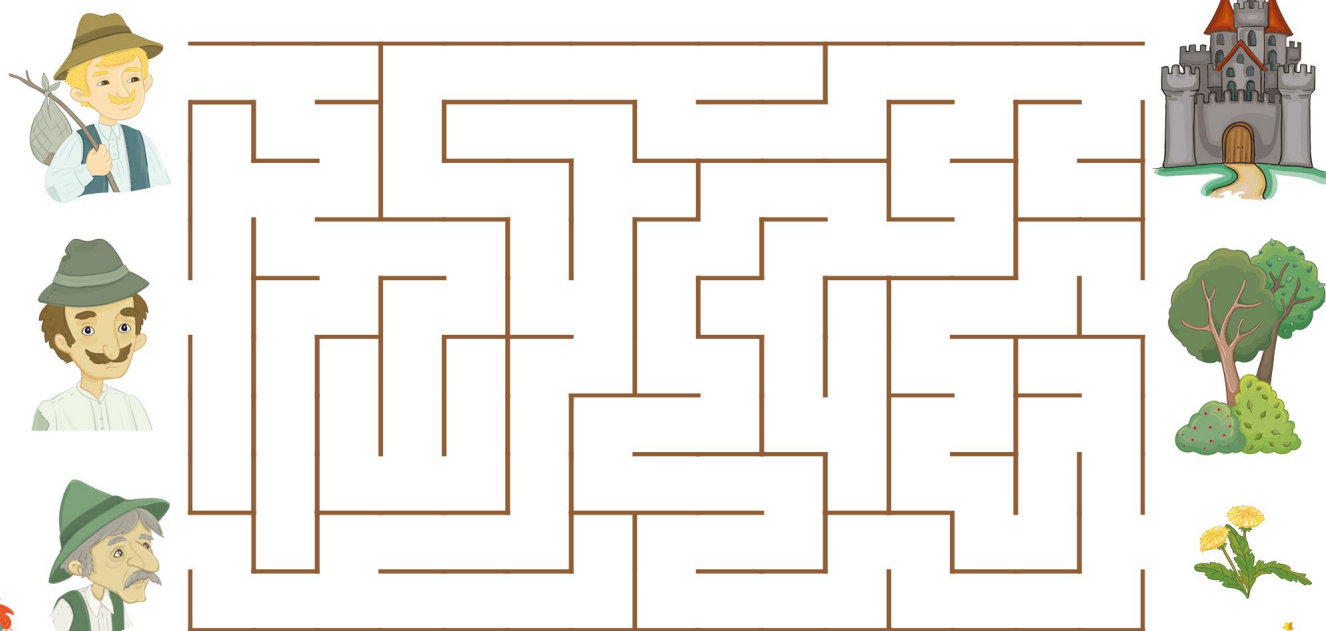


10. Dacă din suma celui mai mare și celui mai mic număr par dintre cele scrise pe porți scazi diferența celorlalte două numere, rezultatul obținut este:

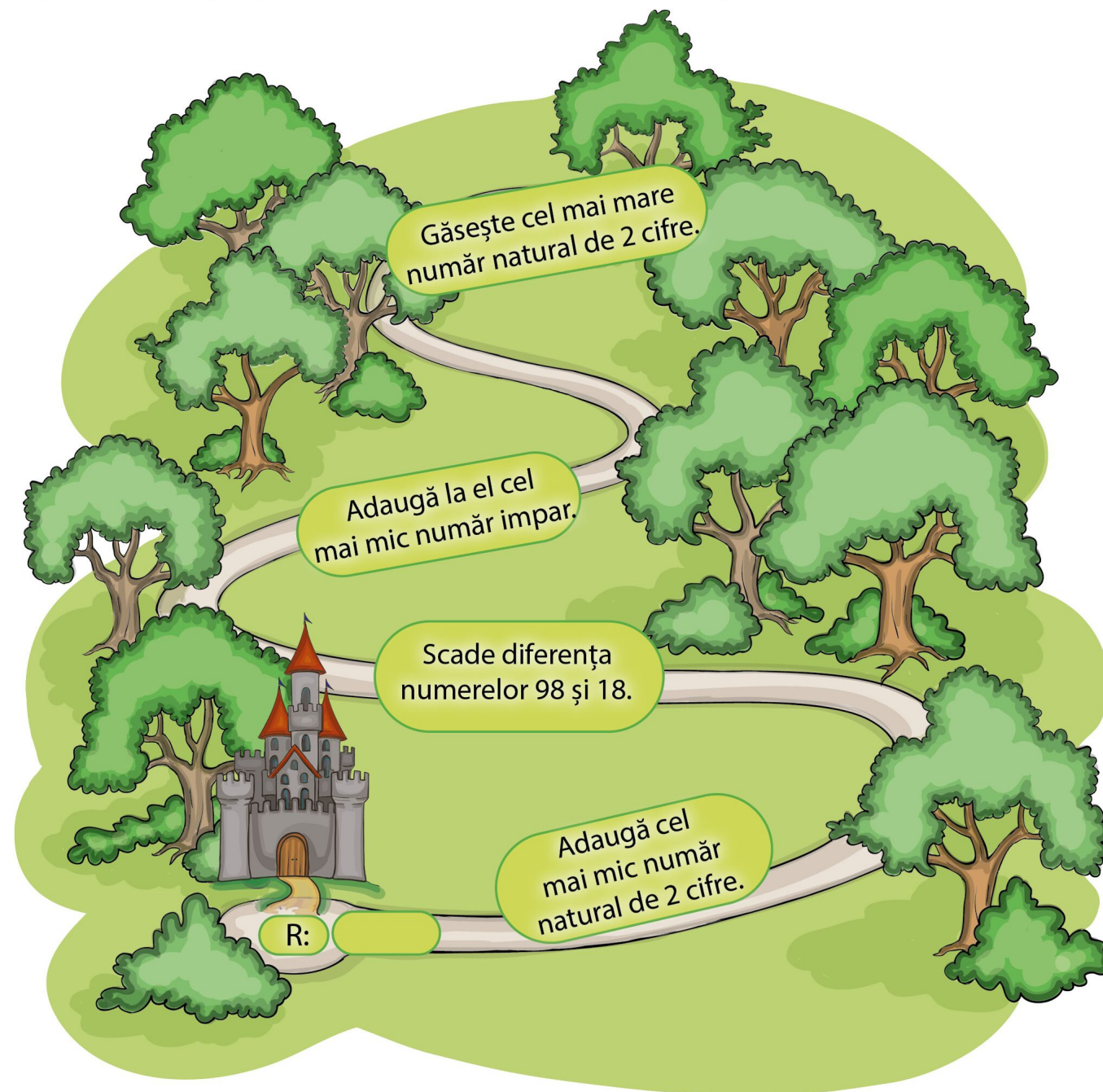


- a) 65; b) 55; c) 73; d) 85.

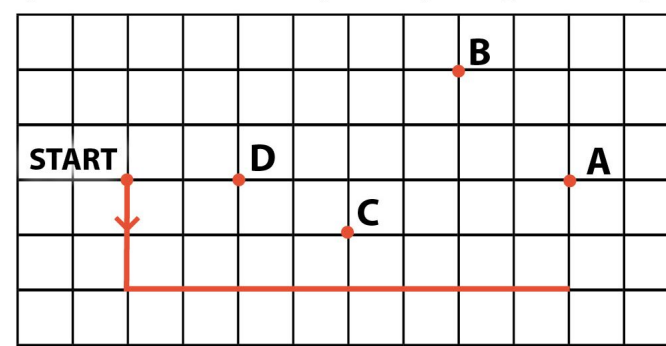
11. Colorează drumul care ajunge la castelul regelui.



12. Pentru a ajunge la castel va trebui să treci câteva probe.



13. Marius dorește să deseneze un castel pornind de la un dreptunghi. Dacă va continua desenul, ce puncte se vor afla pe dreptunghiul obținut?



- a) A și C; b) B și D; c) C și D; d) A și D.

